




การบวก ลบ คูณ หารระคน

น้อง
(ที่มองเลียบ)



Sanook_Kid คณิตศาสตร์



ลำดับขั้นการคำนวณ

$$(120,750 + 18,462) - (232,092 \div 12)$$



ข้อมูลจาก : หนังสือเรียน สสวท.

การบวก ลบ คูณ หารระคนที่มีวงเล็บ

ให้ทำในวงเล็บก่อน จากซ้ายไปขวา



Sanook_Kid คณิตศาสตร์



$$(120,750 + 18,462) - (232,092 \div 12) = 139,212 - 19,341$$
$$= 119,871$$

ดังนั้น $(120,750 + 18,462) - (232,092 \div 12) = 119,871$

ตอบ ๑๑๙,๘๗๑

ข้อมูลจาก : หนังสือเรียน สสวท.

การบวก ลบ คูณ หารระคนที่มีวงเล็บ

ให้ทำในวงเล็บก่อน จากซ้ายไปขวา



Sanook_Kid คณิตศาสตร์

$$\begin{aligned}
 (405,840 + 122,541) - (21,340 \times 18) &= \underline{528,381 + (21,340 \times 18)} \\
 &= \underline{528,381 - 384,120} \\
 &= \underline{144,261}
 \end{aligned}$$

ดังนั้น $(405,840 + 122,541) - (21,340 \times 18) = \underline{144,261}$

ตอบ ๑๔๔,๒๖๑

อย่าลืมตรวจสอบความสมเหตุสมผล



ข้อมูลจาก : หนังสือเรียน สสวท.

การบวก ลบ คูณ หารระคนที่มีวงเล็บ


ให้ทำในวงเล็บก่อน จากซ้ายไปขวา



Sanook_Kid คณิตศาสตร์

เชตใบงานคณิต ป.5

ใบงานคณิตศาสตร์ ป.5 (หลักสูตรใหม่)



ใบงานตามตัวชี้วัด (หลักสูตรใหม่)



ถอดเนื้อหาจากหนังสือเรียน



ครบแน่นทุกเนื้อหา ทั้ง 2 เทอม



พร้อมเฉลยวิธีทำแบบละเอียด ครบทุกข้อ

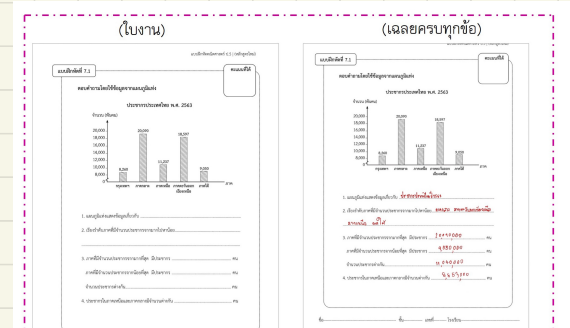
ใบงาน
แยกตามตัวชี้วัด
มากกว่า 150 ใบ

+

ข้อสอบ
ก่อนเรียน
และหลังเรียน

+


เฉลย
วิธีทำแบบละเอียด
ครบทุกข้อ



Sanook_Kid คณิตศาสตร์

เซตใบงานคณิต ป.6

แบบฝึกคณิตศาสตร์ ป.6 (หลักสูตรใหม่)



ใบงานตามตัวชี้วัด(หลักสูตรใหม่)



ถอดเนื้อหาจากหนังสือเรียน



ครบแน่นทุกเนื้อหา ทั้ง 2 เทอม



พร้อมเฉลยวิธีทำแบบละเอียด ครบทุกข้อ

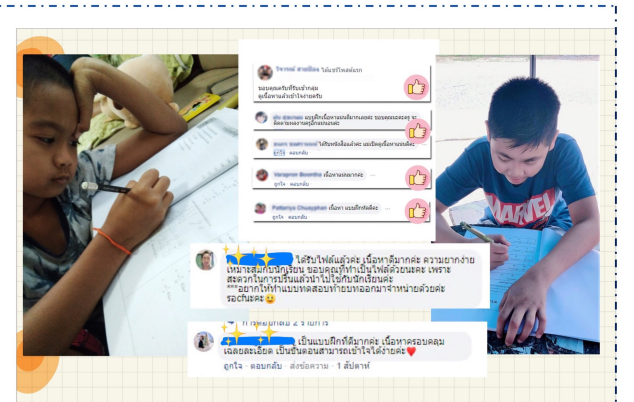
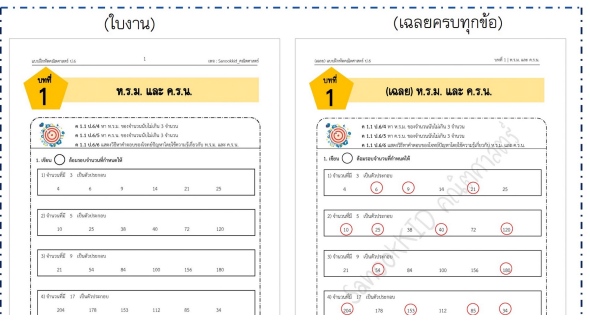
ใบงาน
มากกว่า 150 ใบ

+

ข้อสอบ
ท้ายเล่ม

+

เฉลย
แบบละเอียด



Sanook_Kid คณิตศาสตร์