

แบบรูปความสัมพันธ์ "การบวกและการลบ"



1. แบบรูปความสัมพันธ์การบวก

พิจารณาแบบรูปต่อไปนี้

1 2 4 7 11 16 22 ...

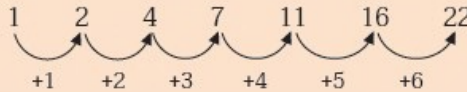


จำนวนในแบบรูปมีความสัมพันธ์กันอย่างไร

จำนวนในแบบรูปมีความสัมพันธ์แบบเพิ่มขึ้น



เพิ่มขึ้นอย่างไร



จำนวนที่อยู่ถัดจาก 22 เป็นจำนวนใด เพราะเหตุใด

29 เพราะ เพิ่มจาก 22 อีก 7 เป็น $22 + 7 = 29$

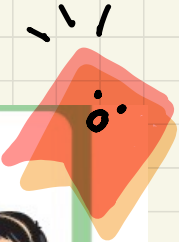


ข้อมูลจาก : หนังสือเรียน สสวท.



Sanook_Kid คณิตศาสตร์

2. แบบรูปความสัมพันธ์การลบ



1,000 995 985 970 950 925 ...

จำนวนในแบบรูปมีความสัมพันธ์กันอย่างไร

จำนวนในแบบรูปมีความสัมพันธ์แบบลดลง

ลดลงอย่างไร

1,000 995 985 970 950 925

-5 -10 -15 -20 -25

จำนวนที่อยู่ถัดจาก 925 เป็นจำนวนใด เพราะเหตุใด

895 เพราะ ลดลงจาก 925 อีก 30 เป็น $925 - 30 = 895$

ข้อมูลจาก : หนังสือเรียน สสวท.




Sanook_Kid คณิตศาสตร์



เซตใบงานคณิต ป.5

ใบงานคณิตศาสตร์ ป.5 (หลักสูตรใหม่)



ใบงานตามตัวชี้วัด (หลักสูตรใหม่)



ลดเนื้อหาจากหนังสือเรียน



ครบแน่นทุกเนื้อหา ทั้ง 2 เทอม



พร้อมเฉลยวิธีทำแบบละเอียด ครบทุกข้อ


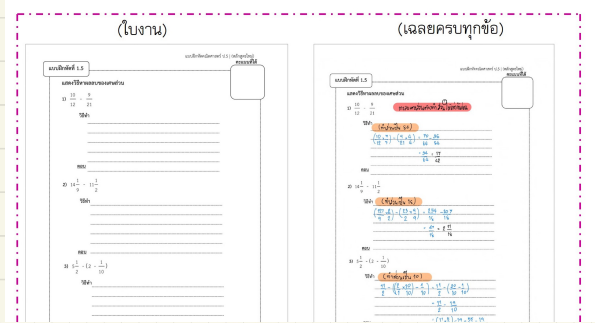
ใบงาน
แยกตามตัวชี้วัด
มากกว่า 150 ใบ

+

ข้อสอบ
ก่อนเรียน
และหลังเรียน

+


เฉลย
วิธีทำแบบละเอียด
ครบทุกข้อ





Sanook_Kid คณิตศาสตร์

เซตใบงานคณิต ป.6

แบบฝึกคณิตศาสตร์ ป.6 (หลักสูตรใหม่)

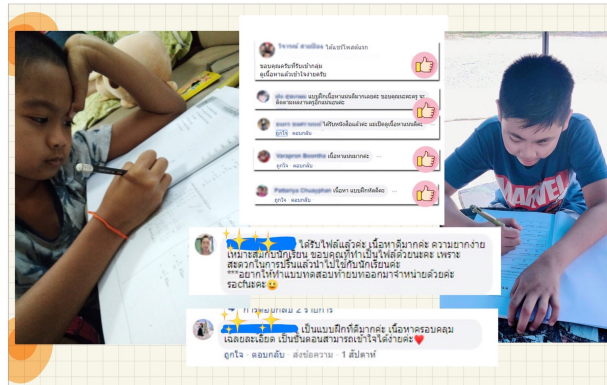
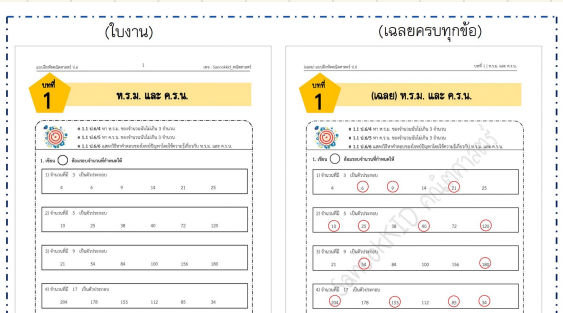


 ใบงานตามตัวชี้วัด(หลักสูตรใหม่)

 ถอดเนื้อหาจากหนังสือเรียน

 ครบแน่นทุกเนื้อหา ทั้ง 2 เทอม

 พร้อมเฉลยวิธีทำแบบละเอียด ครบทุกข้อ



Sanook_Kid คณิตศาสตร์