


ส่วนต่าง ๆ

ส่วนต่างของรูปสามเหลี่ยมประกอบ

ด้วย _____



ชนิดของรูปสามเหลี่ยม

แบ่งตามมุม

แบ่งตามด้าน


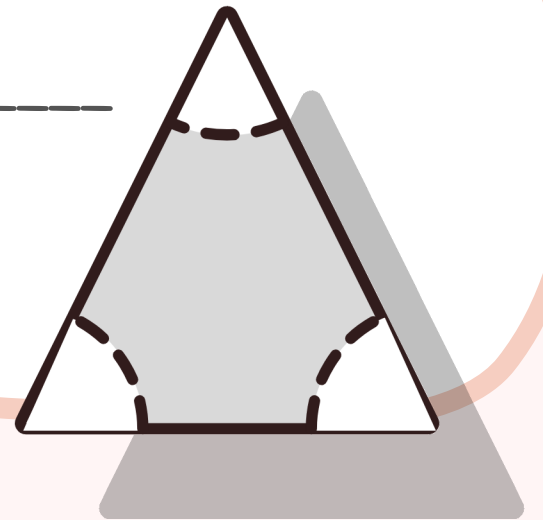


สรุป
รูปสามเหลี่ยม

มุมภายใน

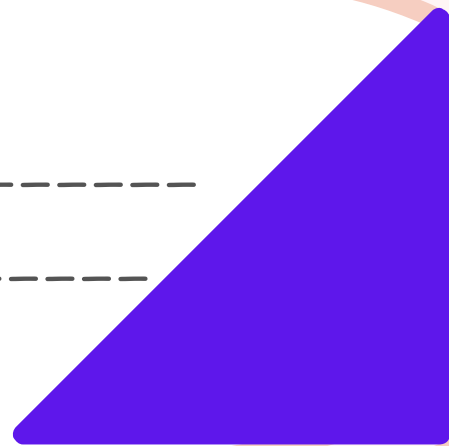
มุมภายในของรูปสามเหลี่ยมทั้งสาม

มุมรวมกันได้ _____



พื้นที่ของรูปสามเหลี่ยม

= _____



9 ซม.

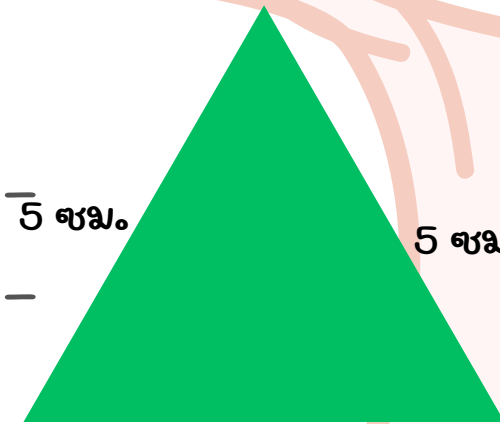
8 ซม.

พื้นที่ = _____

พื้นที่

ความยาวรอบรูป =

----- 5 ซม.



5 ซม.

5 ซม.

4 ซม.

ความยาวรอบรูป

ความยาวรอบรูป =
