



ตัวชี้วัดระหว่างทาง ตัวชี้วัดปลายทาง

ฉบับปรับปรุง
(พ.ศ. 2560)

คณิตศาสตร์
ชั้นประถมศึกษาปีที่ 4

รวม 22 ตัวชี้วัด 12 ตัวชี้วัดระหว่างทาง 10 ตัวชี้วัดปลายทาง



SanookKID_คณิตศาสตร์



thai-students.com



@331emzwc



สาระที่ 1 จำนวนและพีชคณิต



ตัวชี้วัดระหว่างทาง	ตัวชี้วัดปลายทาง
<p>ค 1.1 ป.4/1 อ่านและเขียนตัวเลขฮินดูอารบิก ตัวเลขไทย และตัวหนังสือแสดงจำนวนนับที่มากกว่า 100,000</p>	<p>ค 1.1 ป.4/11 แสดงวิธีหาคำตอบของโจทย์ปัญหา 2 ขั้นตอน ของจำนวนนับที่มากกว่า100,000 และ 0</p> <p>ค 1.1 ป.4/11 แสดงวิธีหาคำตอบของโจทย์ปัญหา 2 ขั้นตอน ของจำนวนนับที่มากกว่า100,000 และ 0</p>
<p>ค 1.1 ป.4/7 ประมาณผลลัพธ์ของการบวก การลบ การคูณ การหาร จากสถานการณ์ต่าง ๆ อย่างสมเหตุสมผล</p>	
<p>ค 1.1 ป.4/8 หาค่าของตัวไม่ทราบค่า ในประโยคสัญลักษณ์ แสดงการบวกและประโยคสัญลักษณ์ แสดงการลบของ จำนวนนับที่มากกว่า 100,000 และ 0</p>	
<p>ค 1.1 ป.4/9 หาค่าของตัวไม่ทราบค่าในประโยคสัญลักษณ์ แสดงการคูณของจำนวนหลายหลัก 2 จำนวน ที่มีผลคูณ ไม่เกิน 6 หลัก และประโยคสัญลักษณ์แสดงการหารที่ตัวตั้ง ไม่เกิน 6 หลัก ตัวหารไม่เกิน 2 หลัก</p>	
<p>ค 1.1 ป.4/10 หาผลลัพธ์การบวก ลบ คูณ หารระคนของ จำนวนนับ และ 0</p>	
<p>ค 1.1 ป.4/12 สร้างโจทย์ปัญหา 2 ขั้นตอน ของจำนวนนับ และ 0 พร้อมทั้งหาคำตอบ</p>	





สาระที่ 1 จำนวนและพีชคณิต



ตัวชี้วัดระหว่างทาง	ตัวชี้วัดปลายทาง
<p>ค 1.1 ป.4/3 บอก อ่าน และเขียนเศษส่วน จำนวนคละแสดง ปริมาณสิ่งต่าง ๆ และแสดงสิ่งต่าง ๆ ตามเศษส่วน จำนวน คละที่กำหนด</p>	<p>ค 1.1 ป.4/4 เปรียบเทียบเรียงลำดับเศษส่วนและจำนวนคละ ที่ตัวส่วนตัวหนึ่งเป็นพหุคูณของอีกตัวหนึ่ง</p>
<p>ค 1.1 ป.4/13 หาผลบวก ผลลบของเศษส่วนและจำนวนคละ ที่ตัวส่วนตัวหนึ่งเป็นพหุคูณของอีกตัวหนึ่ง</p>	<p>ค 1.1 ป.4/14 แสดงวิธีหาคำตอบของโจทย์ปัญหาการบวกและ โจทย์ปัญหาการลบเศษส่วนและจำนวนคละที่ตัวส่วนตัวหนึ่งเป็น พหุคูณของ อีกตัวหนึ่ง</p>
<p>ค 1.1 ป.4/ 5 อ่านและเขียนทศนิยมไม่เกิน 3 ตำแหน่ง แสดงปริมาณของสิ่งต่าง ๆ และแสดงสิ่งต่าง ๆ ตามทศนิยม ที่กำหนด</p>	<p>ค 1.1 ป.4/6 เปรียบเทียบและเรียงลำดับทศนิยมไม่เกิน ๓ ตำแหน่งจากสถานการณ์ต่าง ๆ</p>
<p>ค 1.1 ป.4/15 หาผลบวก ผลลบของทศนิยม ไม่เกิน 3 ตำแหน่ง</p>	<p>ค 1.1 ป.4/16 แสดงวิธีหาคำตอบของโจทย์ปัญหาการบวก การลบ 2 ขั้นตอนของทศนิยมไม่เกิน 3 ตำแหน่ง</p>



SanookKID_คณิตศาสตร์



thai-students.com



@331emzwc

★ สารที่ 2 การวัดและเรขาคณิต ★

ตัวชี้วัดระหว่างทาง	ตัวชี้วัดปลายทาง
-	ค 2.1 ป.4/1 แสดงวิธีหาคำตอบของโจทย์ปัญหาเกี่ยวกับเวลา
ค 2.1 ป.4/2 วัดและสร้างมุม โดยใช้โพรแทรกเตอร์	ค 2.1 ป.4/3 แสดงวิธีหาคำตอบของโจทย์ปัญหาเกี่ยวกับความยาวรอบรูปและพื้นที่ของรูปสี่เหลี่ยมมุมฉาก
ค 2.2 ป.4/1 จำแนกชนิดของมุม บอกชื่อมุมส่วนประกอบของมุมและเขียนสัญลักษณ์แสดงมุม	ค 2.2 ป.4/2 สร้างรูปสี่เหลี่ยมมุมฉากเมื่อกำหนดความยาวของด้าน



SanookKID_คณิตศาสตร์



thai-students.com



@331emzwc

★ สารที่ 3 สกิติและความน่าจะเป็น ★

ตัวชี้วัดระหว่างทาง	ตัวชี้วัดปลายทาง
-	ค 3.1 ป.4/1 ใช้ข้อมูลจากแผนภูมิแท่ง ตารางสองทางในการหาคำตอบของโจทย์ปัญหา



SanookKID_คณิตศาสตร์



thai-students.com



@331emzwc

แบบฝึกคณิตศาสตร์

ตามตัวชี้วัดระหว่างทางและปลายทาง

แบบฝึกหัด

คณิตศาสตร์

ตรงตามหลักสูตรฉบับปรับปรุง(2560)

ป.4

ชื่อ-สกุล.....

ชั้น..... เลขที่..... โรงเรียน.....

สารบัญ	
	หน้า
บทที่ 1 จำนวนนับที่มีค่ามากกว่า 100,000	1
บทที่ 2 การบวกและการลบจำนวนนับที่มีค่ามากกว่า 100,000	13
บทที่ 3 การคูณและการหาร	27
บทที่ 4 การบวก ลบ คูณ หารระคน	41
บทที่ 5 เวลา	51
บทที่ 6 เศษส่วน	63

แบบฝึกหัดคณิตศาสตร์ ป.4 | เลข : SanookKID คณิตศาสตร์ 1 บทที่ 1 | จำนวนนับที่มีค่ามากกว่า 100,000

บทที่ 1 จำนวนนับที่มีค่ามากกว่า 100,000

ค 1.1 ป.4/1 อ่านและเขียนตัวเลขฮินดูอารบิก ตัวเลขไทย และตัวหนังสือแสดงจำนวนนับที่มีค่ามากกว่า 100,000

ค 1.1 ป.4/2 เปรียบเทียบและเรียงลำดับจำนวนนับที่มีค่ามากกว่า 100,000 จากสถานการณ์ต่าง ๆ

แบบฝึกหัดที่ 1.1

เขียนตัวเลขฮินดูอารบิก ตัวเลขไทย หรือตัวหนังสือแสดงจำนวน

1) 652,145

ตัวเลขไทย

ตัวหนังสือ

2) สามล้านแปดหมื่นเก้าร้อยสิบสอง

ตัวเลขฮินดูอารบิก

ตัวเลขไทย

แบบฝึกหัดคณิตศาสตร์ ป.4 51 บทที่ 5 | เวลา

บทที่ 5 เวลา

ค 2.1 ป.4/1 แสดงวิธีหาคำตอบของโจทย์ปัญหาเกี่ยวกับเวลา

แบบฝึกหัดที่ 5.1

เขียนบอกเวลาจากภาพที่กำหนดให้



จากภาพเป็นเวลา



จากภาพเป็นเวลา



จากภาพเป็นเวลา




จากภาพเป็นเวลา

ชื่อ-สกุล..... ชั้น..... เลขที่.....

(เฉลย) แบบฝึกหัดคณิตศาสตร์ ป.4 | เลข : SanookKID คณิตศาสตร์ 9 บทที่ 9 | รูปสี่เหลี่ยมมุมฉาก

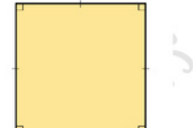
แบบฝึกหัดที่ 9.9

เติมความกว้างและความยาวของรูปสี่เหลี่ยมมุมฉากแล้วหาพื้นที่

1) 

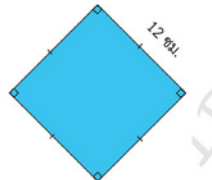
ความกว้าง 4 ความยาว 5

รูปนี้มีพื้นที่ $4 \times 5 = 20$ ตร.ซม.

2) 

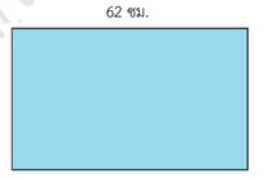
ความกว้าง 8 ความยาว 8

รูปนี้มีพื้นที่ $8 \times 8 = 64$ ตร.ซม.

3) 

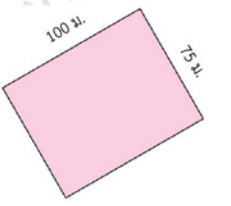
ความกว้าง 12 ความยาว 12

รูปนี้มีพื้นที่ $12 \times 12 = 144$ ตร.ซม.

4) 

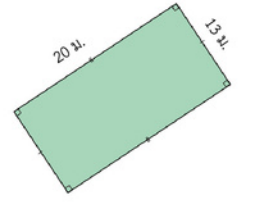
ความกว้าง 40 ความยาว 62

รูปนี้มีพื้นที่ $40 \times 62 = 2,480$ ตร.ซม.

5) 

ความกว้าง 75 ความยาว 100

รูปนี้มีพื้นที่ $75 \times 100 = 7,500$ ตร.ม.

6) 

ความกว้าง 13 ความยาว 20

รูปนี้มีพื้นที่ $13 \times 20 = 260$ ตร.ม.

รีวิว

Chanita Sungpankhae แนะนำ Sanook_Kid คณิตศาสตร์ 29 พฤศจิกายน 2022

สื่อดีมีเนื้อหาตรงตามตัวชี้วัด ไขสอนเด็กดีมากคะ

ครูอุ้ม แม่ที่มีลูกเก่งกมญญ แนะนำ Sanook_Kid คณิตศาสตร์ 7 พฤศจิกายน 2022

เนื้อหาดีมาก เหมาะกับสิ่งที่ต้องการจะให้ผู้เรียนได้เรียนรู้..เยี่ยมมากคะ

Nutchuda Thasena แนะนำ Sanook_Kid คณิตศาสตร์ 13 พฤศจิกายน 2022

ติดตามเพจตลอด มีแบบฝึกหัด ข้อสอบ เนื้อหา ข้อสอบตรงตามตัวชี้วัด ใช้ทบทวนทเรียนได้ผลจริง ประหยัดเวลา แอดมินให้การตอบกลับทุกครั้งคะ

Kaewsai Preechakul แนะนำ Sanook_Kid คณิตศาสตร์ 6 พฤศจิกายน 2022

สะดวก ใช้งานได้จริง ไฟล์งานเป็นระเบียบเรียบร้อยดีคะ

Sorapong Yuthtrai แนะนำ Sanook_Kid คณิตศาสตร์ 19 กันยายน 2022

แบบฝึกหัดดี มีหลากหลายรูปแบบ ตรงตามเนื้อหาที่เรียน ลูกทำเพลินเลยคริ

อัญชนก ศรีรัมย์ศ แนะนำ Sanook_Kid คณิตศาสตร์

ครบ จบในเล่มเดียว
มีมากกว่า 130 แบบฝึก



ข้อสอบคณิตศาสตร์ ป.4 เทอม 2

ตามตัวชี้วัดระหว่างทางและปลายทาง




ช

เซตข้อสอบ คณิตศาสตร์ ป.4 (เทอม 2)




เนื้อหาประกอบด้วย

- เศษส่วน
- ทศนิยม
- มุม
- รูปสี่เหลี่ยม
- ตารางทางเดียว
- แผนภูมิแท่ง



โรงเรียน..... อำเภอ..... จังหวัด.....

 แบบทดสอบวัดผล ท้ายหน่วย กลางภาค ปลายภาค ภาคเรียนที่ 2/.....
 รายวิชา..... คณิตศาสตร์..... รหัสวิชา..... ชั้นประถมศึกษาปีที่ 4
 แบบทดสอบทั้งหมด..... หน้า คะแนนเต็ม..... คะแนน เวลา..... นาที
 ผู้ออกข้อสอบ.....

หน่วยที่ 6 เศษส่วน

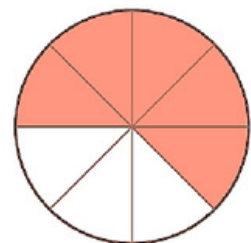
ตัวชี้วัด ค. 1.1 ป.4/3 บอก อ่าน และเขียนเศษส่วน จำนวนคละแสดงปริมาณสิ่งต่าง ๆ และแสดงสิ่งต่าง ๆ ตามเศษส่วน จำนวนคละที่กำหนด

ค. 1.1 ป.4/4 เปรียบเทียบ เรียงลำดับเศษส่วนและจำนวนคละที่ตัวส่วนตัวหนึ่งเป็นพหุคูณของอีกตัวหนึ่ง

ค. 1.1 ป.4/13 หาผลบวก ผลลบของเศษส่วนและจำนวนคละที่ตัวส่วนตัวหนึ่งเป็นพหุคูณของอีกตัวหนึ่ง

ค. 1.1 ป.4/14 แสดงวิธีหาคำตอบของโจทย์ปัญหาการบวกและโจทย์ปัญหา การลบเศษส่วนและจำนวนคละที่ตัวส่วนตัวหนึ่งเป็นพหุคูณของอีกตัวหนึ่ง

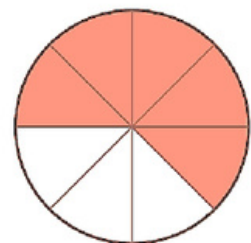
1. ข้อใดเขียนเศษส่วน ส่วนที่ระบายสีได้ถูกต้อง



ก. $\frac{3}{5}$

ข. $\frac{3}{8}$

ค. $\frac{3}{8}$




ง. $\frac{5}{8}$

ค. $\frac{5}{3}$


ข. $\frac{5}{8}$

2. ข้อใดเขียนเศษส่วน ส่วนที่ระบายสีได้ถูกต้อง



ก. $\frac{2}{4}$

ค. $\frac{4}{6}$



ข. $\frac{4}{2}$

ง. $\frac{2}{6}$

เพจ : SanookKID_คณิตศาสตร์

อ่านข้อมูลจากแผนภูมิแท่งต่อไปนี้ แล้วตอบคำถามข้อ 23 - 25

จำนวนครั้งที่กระโดดเชือกของผู้เข้าแข่งขันกระโดดเชือก

ผู้เข้าแข่งขัน	จำนวนครั้ง
สมจิต	200
สมพร	130
สมศรี	250
สมชาย	350
สมปอง	150
สมบัติ	220

23. ผู้เข้าร่วมแข่งขันกระโดดเชือกมีทั้งหมดกี่คน

ก. 1,250 คน
 ข. 1,300 คน
 ค. 1,350 คน
 ง. 1,400 คน

24. สมจิตต้องกระโดดเชือกให้มากขึ้นกี่ครั้งจึงจะกระโดดได้เท่ากับสมศรี

ก. 50
 ข. 100
 ค. 150
 ง. 200

25. ผู้ที่กระโดดเชือกได้มาก 200 ครั้ง มีกี่คน

ก. 5 คน
 ข. 4 คน
 ค. 3 คน
 ง. 2 คน

เพจ : SanookKID_คณิตศาสตร์

รวมข้อสอบท้ายหน่วย พร้อมเฉลย